

わたしたちの熊本県 れん習もんだい①

① 熊本県の地名や地形について

「わたしたちの熊本」のP6を見ながらこたえましょう。

習った漢字は、漢字で書こう！

(1) 熊本県の大きな川を4つこたえましょう。

川	川	川	川
---	---	---	---

(2) わたしたちが住んでいる合志市は、熊本市中心部から見て、どちらの方角ほうかくにありますか？

(東西南北でこたえましょう。)

合志市は熊本市から見て () の方角ほうかくにある。

(3) 熊本県の県庁所在地けんちようしよざいちはどこですか？

市

(4) 平らなところが広くつづいているところを何と言いますか？

--

(5) まわりを山地にかこまれた、まわりよりも低く、平らなところを何と言いますか？

--

(6) 熊本県の西側とくらべると、東側は平野か山地、どちらが多いですか？

--

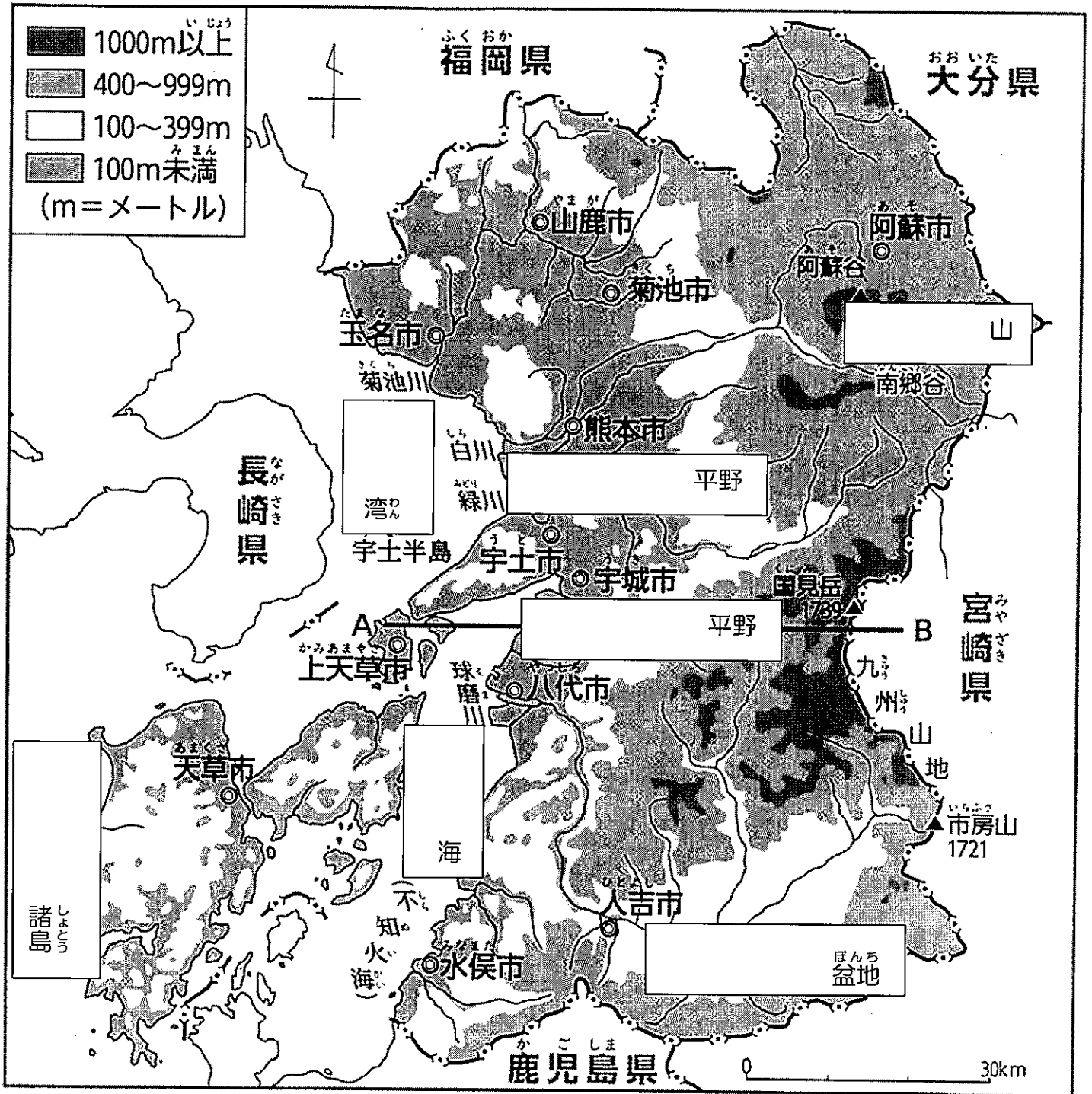
(7) 熊本県の平野は、西側と東側、どちらが多いですか？

--

(8) 熊本県と接せつしている (となり合わせになっている) 県は4つあります。その県の名前をすべて書きましょう。

県	県	県	県
---	---	---	---

(9) 次は熊本県の土地の様子を表したものです。口の中に入る、海の名前や地形の名前を書きましょう。



⬆ 熊本県の土地のようす

わたしたちの熊本県 れん習もんだい②

① 熊本県について

「わたしたちの熊本」のP7を見ながらこたえましょう。

習った漢字は、漢字で書こう！

(1) () の中に当てはまる言葉を書きましょう。

熊本県で、一番人が多く住んでいる市は () 市で、この市は、県の仕事や政治を行う県庁がある () という都市である。

(2) 熊本県の人口はおよそ何何人ですか？

およそ 万人

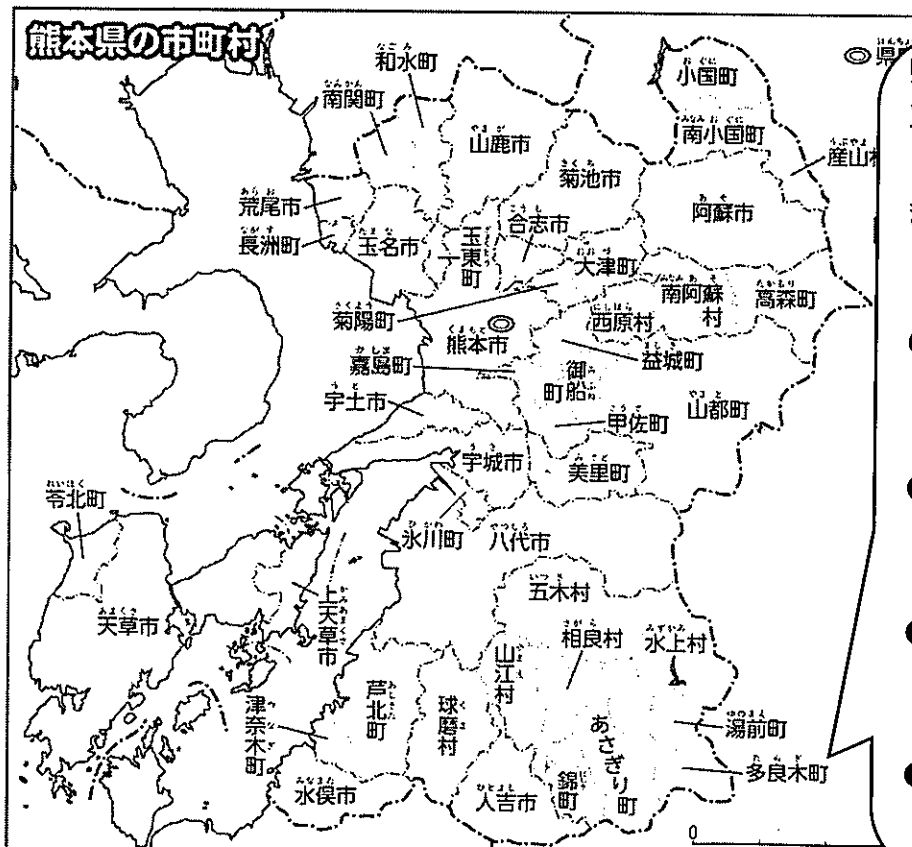
(3) 熊本県の県庁所在地はどこですか？

市

(4) 熊本県で人口が多いところは、山地に多いですか、平野に多いですか？

(5) 熊本市に接している (となり合わせになっている) 市町村はどこですか？

地図を見3つ答えましょう。()



県庁 (熊本市) から見て、次の市ははどの方位にありますか？ () に方位を書きましょう。

● あまくさし 天草市 ()

● やまがし 山鹿市 ()

● あそし 阿蘇市 ()

● ひとよしし 人吉市 ()

わたしたちの熊本県 れん習もんだい③

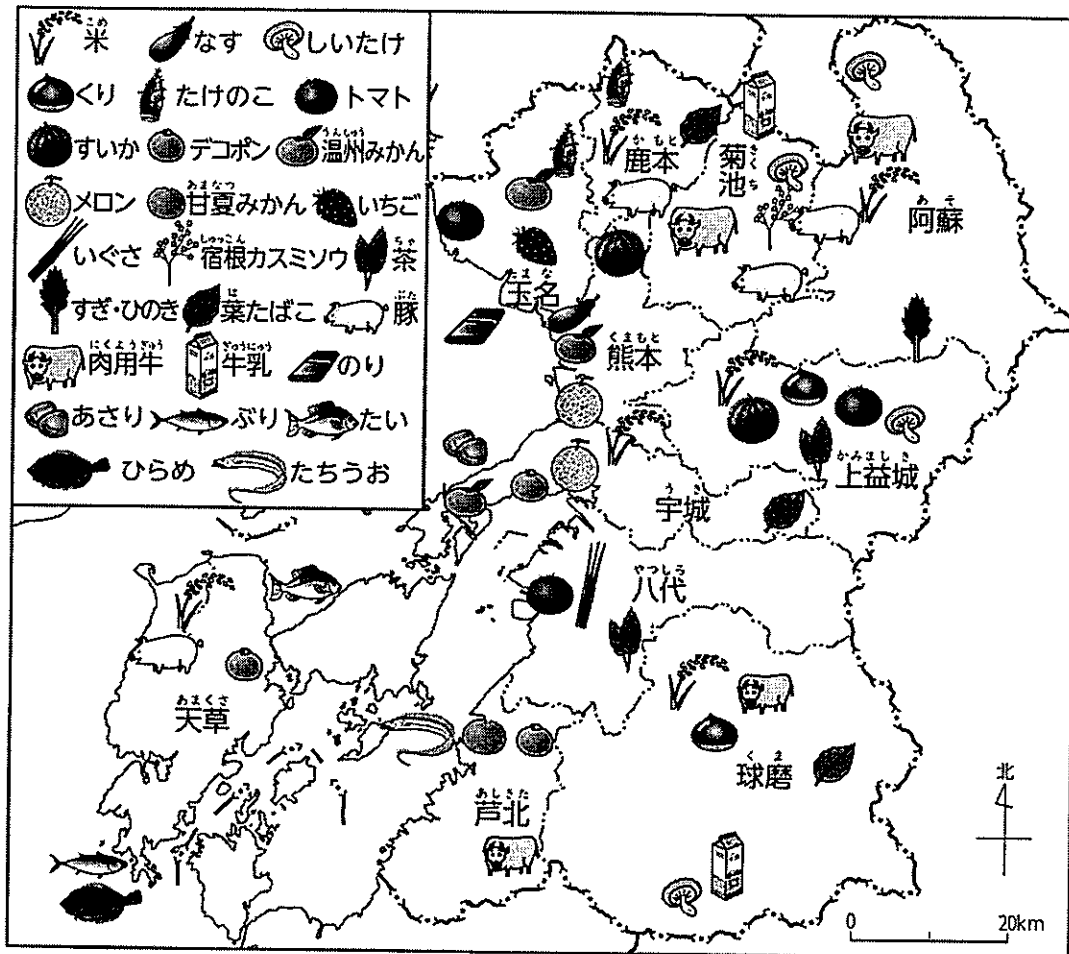
① 熊本県の農業について

「わたしたちの熊本」のP8、9を見ながらこたえましょう。

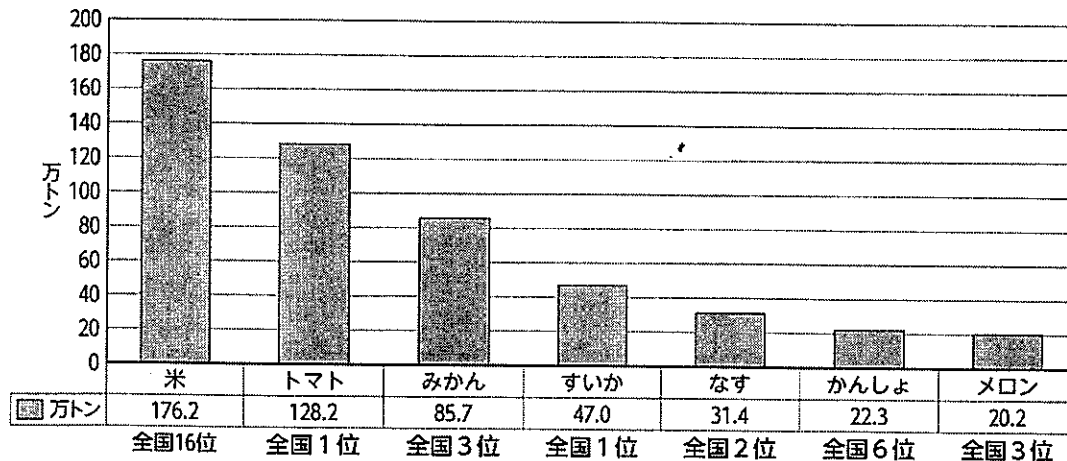
習った漢字は、漢字で書こう！

(1) 熊本県の農産物の産地と生産量について、下の資料から分かることを書きました。

○ に当てはまる言葉を書きましょう。



■熊本県の主な農産物生産量



① 熊本地いぎや宇城地いぎの海ぞいのところでは、みかんやメロンなどの
()が多く作られている。生産量は全国4位である。

② 上益城や熊本市の北の方では、()が多く作られ、生産量は全国1位
である。

③ 熊本県の農産物の生産量で全国1位のものは()と()
である。

わたしたちの熊本県 れん習もんだい④

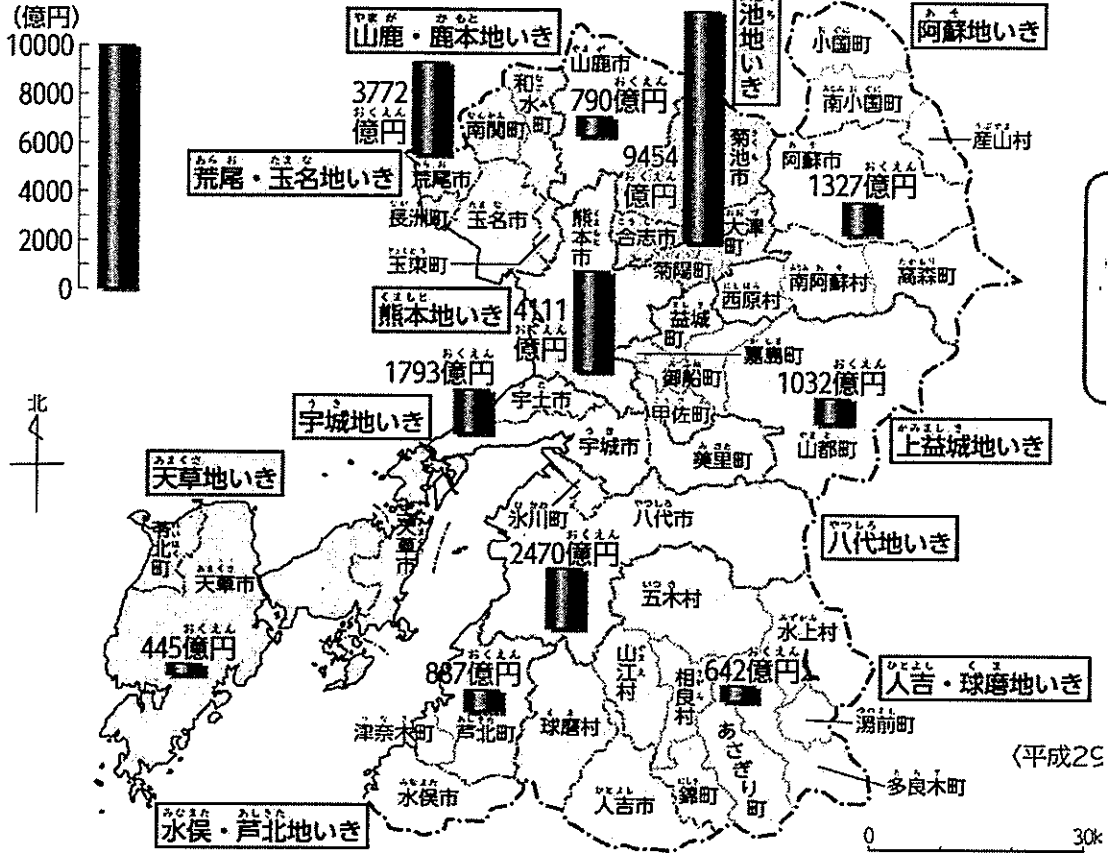
① 熊本県の工業について

「わたしたちの熊本」のP10、11を見ながらこたえましょう。

(1) 次の資料を見てこたえましょう。

習った漢字は、漢字で書こう！

■熊本県の地いき別せいぞう品出かがく



① 熊本県の地いき別せいぞう品出かがくで、最も多い地いきはどこですか？

地いき

(2) 次の文の () に入ることばを書きましょう。

菊池地いきや、熊本地いきで多く作られている () は、熊本の豊富な

() を使って作られ、日本各地へ高速道路などを使ってトラックで運ばれたり、世界各地へ () や () で運ばれたりしている。

熊本県の () の方が他に比べてせいぞう品出かがくが多い。これは、菊池地

いきにある () 工場や、福岡県や大分県にある

() 工場へ送る部品を作っているからである。

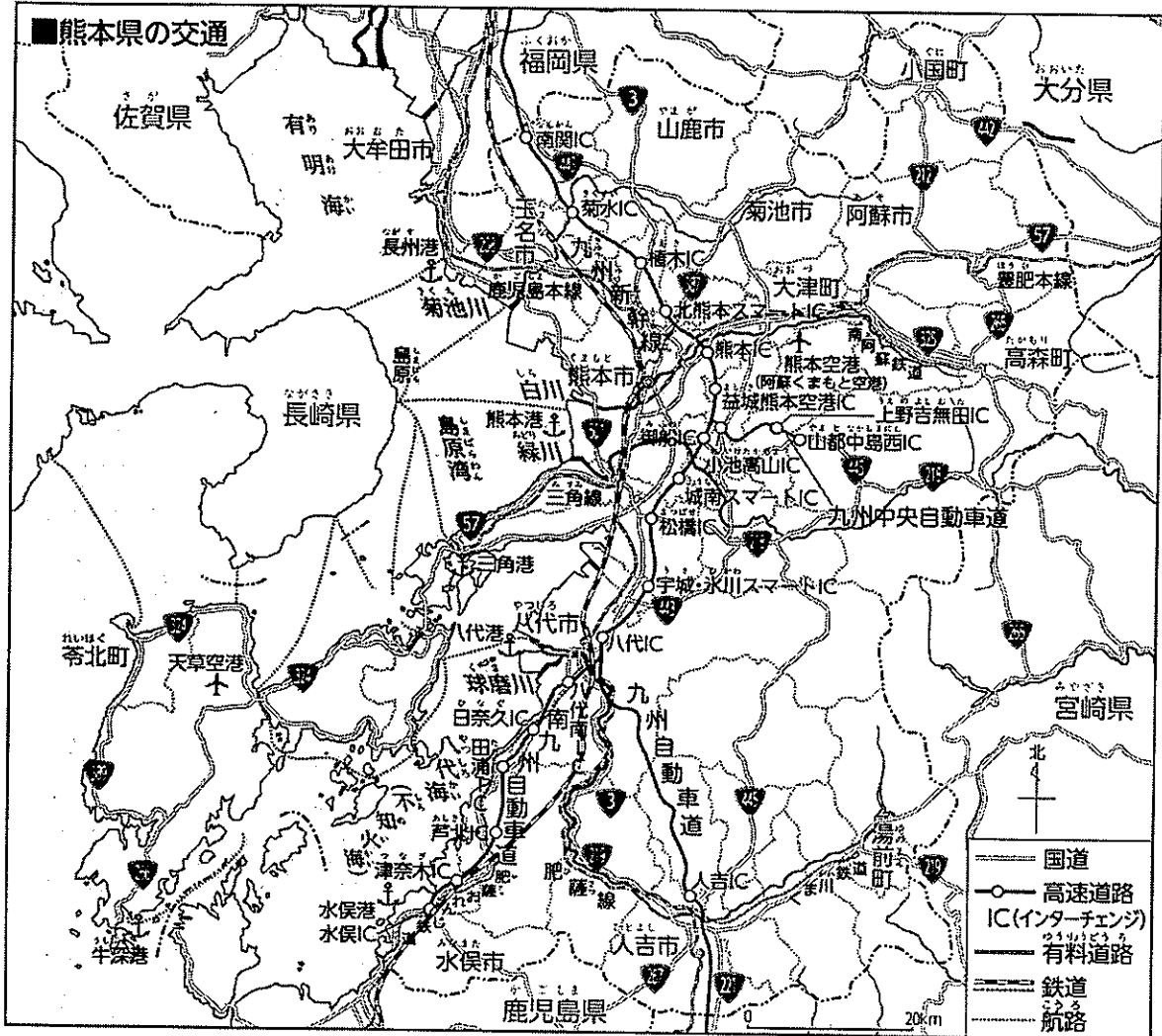
わたしたちの熊本県 れん習もんだい⑤

① 熊本県の交通について

「わたしたちの熊本」のP12、13を見ながらこたえましょう。

習った漢字は、漢字で書こう！

(1) 次の資料を見てこたえましょう。



① 熊本県を北から南に通っている、2011年に開通した鉄道は何ですか？

② ①に沿うように走っている、高速道路の名前は何か？

③ 大分県へとつながっている、豊肥本線に沿って走っている国道は何ですか？